



Երկրորդ մակարդակ.Մարտի ֆլեշմոբ

arman.a.alaverdyan@gmail.com [Switch account](#)

 Not shared

 Draft not saved

* Indicates required question

Անուն ,Ազգանուն *

Միա Ալավերդյան

Էլեկտրոնային հասցե *

m.alaverdyan@msh.am

Դպրոց *

- Արևելյան դպրոց-պարտեզ
- Արևմտյան դպրոց-պարտեզ
- Հարավային դպրոց-պարտեզ
- Հյուսիսային դպրոց-պարտեզ
- Միջին դպրոց
- Ավագ դպրոց
- Քոլեջ
- այլ



Դասարան *

- Առաջին
- երկրորդ
- Երրորդ
- Չորրորդ
- Հինգերորդ
- Վեցերորդ
- Յոթերորդ
- Ութերորդ
- Իններորդ
- Տասներորդ
- Տասնմեկերորդ
- Տասներկուերորդ
- Զուգ

1.Երկու զամբյուղում միասին կա 42 վարդ: Որքա՞ն վարդ կա առաջին զամբյուղում, եթե հայտնի է, որ առաջին զամբյուղում կա երկրորդում եղած վարդերի քանակի կեսից 6-ով ավելի վարդ:

18 վարդ



2.Քանի՞ կենտ թիվ է հնարավոր ստանալ 15274 թվի թվանշանների վերադասավորումով:

72

3. Արեգը միևնույն արագությամբ 8 թույտում քայլեց 560 մետր ճանապարհ: Քանի՞ մետր ճանապարհ նա կքայլի 12 թույտում, եթե այդ ողջ ընթացքում նա քայլի միևնույն արագությամբ:

840 մետր

4.180 լուցկու հատիկը բաժանել ենք երեք տուփի մեջ այնպես, որ առաջինը 40-ով, իսկ երկրորդը 20-ով շատ լինի երրորդից: Քանի՞ լուցկու հատիկ կա երկրորդ տուփում:

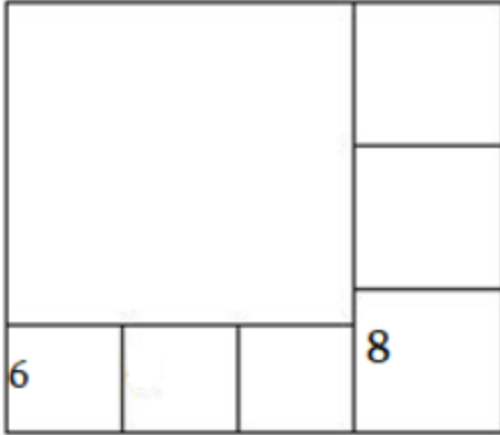
60 լուցկու հատիկ

5. Քանի՞ երկնիշ թիվ կա, որոնց թվանշանների գումարը կենտ է:

45 թիվ



6. Ուղղանկյունը բաժանված է 7 քառակուսիների, ինչպես պատկերված է նկարում: Գտնել ուղղանկյան մակերեսը, եթե հայտնի է երկու քառակուսիների կողմերը՝ 6սմ և 8սմ:



624

7. Պապիկը 8 անգամ մեծ է իր թոռնիկից, իսկ թոռնիկը 56 տարով փոքր է իր պապիկից: Քանի՞ տարեկան է թոռնիկը:

8 տարեկան

8. Քանի՞ երկնիշ թիվ կա, որ 5-ի բաժանելիս ստացվում է 3 մնացորդ:

18



9.Եթե Աննայի մտապահված թվին ավելացնենք նույն թիվը, ապա կստացվի ամենամեծ կենտ եռանիշ թվից 9-ով փոքր թիվ: Գտնել Աննայի մտապահված թիվը:

495

10.Նարեկը խանութից գնեց 250 դրամանոց երկու թխվածքաբլիթ և 180 դրամանոց մի քանի շոկոլադե սալիկ: Զանի՞ այդպիսի շոկոլադե սալիկ է գնել Նարեկը, եթե այդքանը միասին արժեք 1580 դրամ:

6

Խնդիրներն ընտրեց Գրետա Բակունցը :

Your answer

Submit

Clear form

Never submit passwords through Google Forms.

This content is neither created nor endorsed by Google. [Report Abuse](#) - [Terms of Service](#) - [Privacy Policy](#)

Google Forms



